


Aujourd'hui nous sommes :



NOMBRE DU JOUR

Correction du nombre du jour de Mardi 26

$$\begin{array}{r}
 \overset{\textcircled{1}}{1} \ \overset{\textcircled{1}}{3} \ \overset{\textcircled{1}}{1} \ 8 \\
 - \ \underset{\textcircled{1}}{9} \ \underset{\textcircled{1}}{8} \ \underset{\textcircled{1}}{9} \\
 \hline
 0 \ 3 \ 2 \ 9
 \end{array}$$

trois cent vingt-neuf


Voici le tirage des dés du nombre du jour :



Aujourd'hui, tu dois faire une multiplication pour retrouver le nombre du jour :

$$\begin{array}{r}
 3 \ 2 \ 9 \\
 \times \quad 2 \\
 \hline
 \end{array}$$

Rappel : Vidéo Apprendre à calculer une multiplication (avec retenue) : <https://www.youtube.com/watch?v=4uOrjhTd36c>



2 :

3 :

4 : < <

LA FAMILLE

Le mâle est appelé le lapin, la femelle la lapine et les jeunes jusqu'à 2-3 mois : lapereaux.
Entre la fin janvier à mi-août : Les jeunes naissent dans un terrier appelé rabouillère après une gestation d'environ 30 jours. Les femelles mettent au monde chaque année de 15 à 25 petits en 3 à 5 portées. Seuls 5 à 6 jeunes parviennent à l'âge adulte. Les petits naissent aveugles et nus ; ils n'ouvriront leurs yeux qu'au bout de 10 jours.

HABITAT

Le lapin de Garenne est présent sur l'ensemble de la France. Les lapins creusent des **terriers** que l'on peut trouver en forêt. Le terrier peut être relié aux autres terriers par des galeries. Un réseau de terriers est appelé une garenne. Le lapin s'en éloigne généralement de quelques centaines de mètres pour chercher sa nourriture.

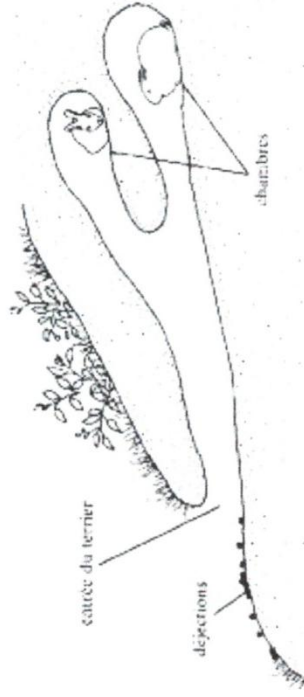
ALIMENTATION

Herbivore, son alimentation est très diversifiée : ronces, ajoncs, bruyères, arbustes, fruits tombés au sol... Il ne va chercher sa nourriture qu'au coucher du soleil.

« RECORD »

Grâce à ses pattes arrière, le lapin court à près de 40km/heure. Lorsqu'il saute on dirait qu'il vole.

Le lapin de garenne



Le lapin de garenne mesure de 34 à 50 cm, pèse de 1,2 kg à 2,5 kg.
Il possède une **fourette** douce de couleur brun roux, qui constitue un bon camouflage contre ses prédateurs.
C'est un animal qui vit surtout la nuit.

Complète le fiche sur le lapin de garenne en t'aidant du texte. Aide parents en fin de programme

.....

Il mange:

.....

.....

.....

.....

.....

Il est:

carnivore
herbivore
omnivore

La vie de famille:

.....

.....

.....

Les petits:


.....

.....

.....

.....

.....



Particularités physiques:

.....

.....

.....

.....

Sa peau est recouverte de

écailles	plumes	poils
----------	--------	-------

Il vit:

.....

.....

.....

.....

.....

Calcul

1- Suites à l'envers

* Recule de 10 en 10 de 364 à 284 :

.....
.....

* Recule de 5 en 5 de 203 à 190 :

.....
.....

2- Ajouter 9 :

$79 + 9 = \boxed{}$

$69 + 9 = \boxed{}$

$51 + 9 = \boxed{}$

$34 + 9 = \boxed{}$

$68 + 9 = \boxed{}$

$7 + 9 = \boxed{}$

$35 + 9 = \boxed{}$

$72 + 9 = \boxed{}$

$5 + 9 = \boxed{}$

$26 + 9 = \boxed{}$

$21 + 9 = \boxed{}$

$74 + 9 = \boxed{}$

$82 + 9 = \boxed{}$

$16 + 9 = \boxed{}$

$58 + 9 = \boxed{}$

$76 + 9 = \boxed{}$

$4 + 9 = \boxed{}$

$85 + 9 = \boxed{}$

$12 + 9 = \boxed{}$

$66 + 9 = \boxed{}$

3- Inscris le calcul :

Dans la table de 3, qu'est-ce qui fait... : 9 ?.....

18 ?

12 ?

27 ?

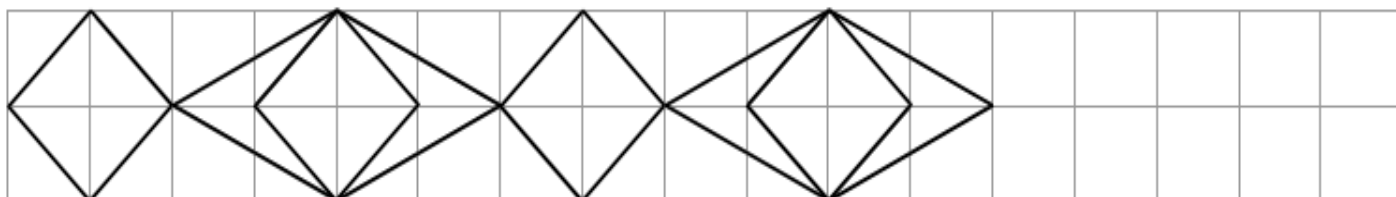
Dans la **table de 5**, qu'est-ce qui fait... : 25 ?.....

10 ?

50 ?

35 ?

Poursuis la frise et colorie avec soin



Problèmes

1

On échange une pépite d'or contre 5 perles.

Lisa donne 45 perles à Alex.

➤ Combien va-t-il lui donner de pépites ?



Je réponds à la question en faisant une phrase :

.....

2

Léo a 3 boîtes de 10 gâteaux.

Il mange 3 gâteaux et en donne 3 à chacun de ses 3 amis.

➤ Combien reste-t-il de gâteaux ?

Je réponds à la question en faisant une phrase :

.....

Orthographe

Complète les groupes nominaux avec l' un des adjectifs proposés en respectant l'accord avec le nom.

grande - grand - grands - grandes

Un chemisier


Deschaussures

Des bonnets

Une femme

Choisis , dans le tableau, un adjectif de couleur pour compléter chaque phrase.
Puis, colorie le dessin tel que tu l'as écrit.

bleu - bleue - bleus - bleues	blanc - blanche - blancs - blanches	rouge - rouges
jaune - jaunes	noir - noire - noirs - noires	vert - verte - verts - vertes



Blanche-Neige porte un chemisier , une jupe e t des chaussures

A sa gauche, le nain barbu porte un bonnet , un pull et des bottes

A sa droite, l'autre nain porte un bonnet un pantalon et des chaussures

Dictée.

Les phrases à dicter se trouvent à la fin du programme du jour.

1)

.....

.....

2)

.....

.....

.....

3)

.....

.....

Grammaire

Identifier le groupe sujet d'un verbe.

Souligne en bleu le groupe sujet. Aide-toi de la question « Qui est-ce qui ? »

La petite fille verse du thé dans une tasse.

Le lapin attend d'être servi.



Dans l'herbe, trois champignons poussent tout droit.

Une petite souris est perchée sur un caillou.

Les deux amis se servent d'un grand champignon comme table.

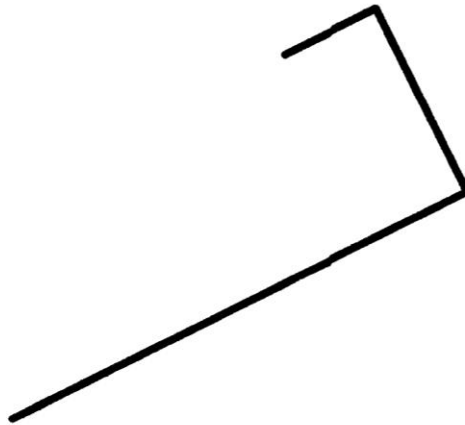
Mathématiques



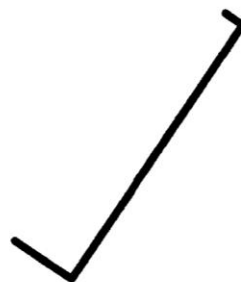
Rappel des propriétés du carré et du rectangle. (cf mardi 26 mai).

Termine les tracés pour obtenir 1 rectangle et un carré.

Termine le tracé du rectangle. Deux côtés sont déjà tracés et un côté est commencé.



Termine le tracé du carré. Un côté est déjà tracé et deux côtés sont commencés.



Grandeurs et mesures Révision Fiche 33C

3 - Complète.

$$1 \text{ m } 28 \text{ cm} = 128 \text{ cm}$$

$$1 \text{ m } 40 \text{ cm} = \dots \text{ cm}$$

$$3 \text{ m } 50 \text{ cm} = \dots \text{ cm}$$

$$2 \text{ m } 34 \text{ cm} = \dots \text{ cm}$$

$$6 \text{ m } 9 \text{ cm} = \dots \text{ cm}$$

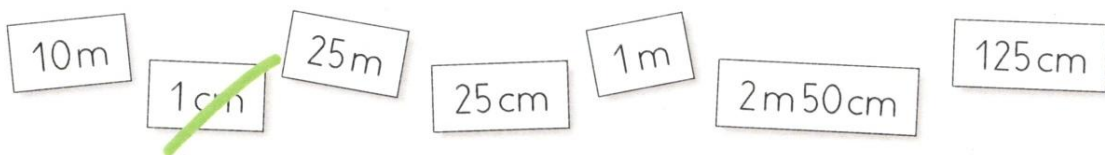
$$5 \text{ m } 21 \text{ cm} = \dots \text{ cm}$$

$$4 \text{ m } 8 \text{ cm} = \dots \text{ cm}$$

4 - Entoure chaque fois la longueur la plus grande.
Entoure les deux longueurs si elles sont égales.


3 cm	10 cm	10 cm	1 m
1 m	50 cm	130 cm	1 m 3 cm
200 cm	2 m	40 cm	4 m

5 - Range les longueurs de la plus petite à la plus grande.



1 cm < < < < < <

ECRITURE



Quand je serai grand/grande, je serai...

Quand tu seras plus grand, quel métier feras-tu? Pourquoi?....

.....

.....

.....

.....

.....

.....

.....

.....

.....

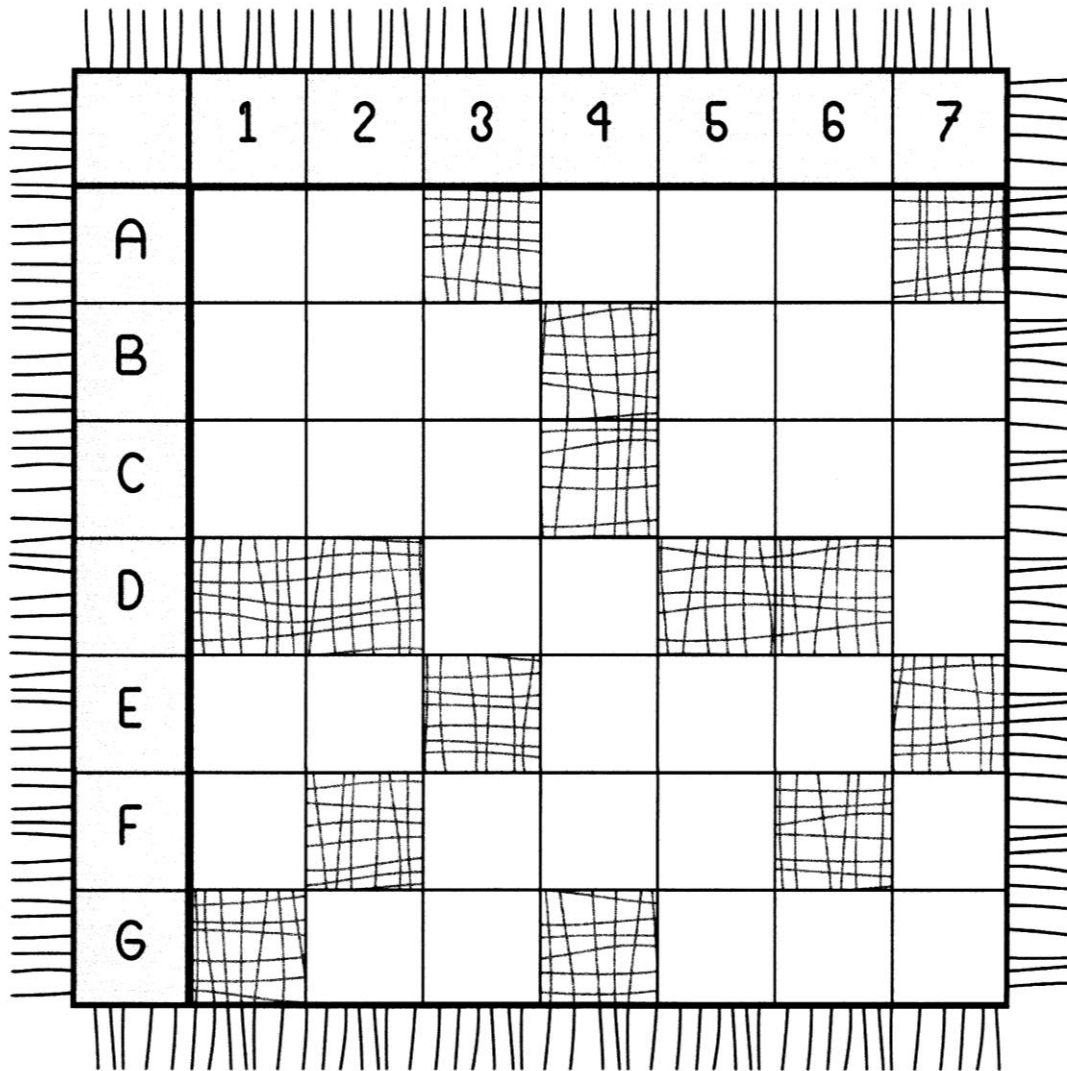
.....

Tu peux illustrer ton récit :

NOMBRES CROISÉS

B

5



HORIZONTAL

A	▶4x9	▶623+175	
B	▶378-233	▶299+53	
C	▶2x100	▶300-1	
D	▶5x9	▶moitié de 12	
E	▶4x8	▶165+189	
F	▶786-781	▶10x56	▶4x2
G	▶5x8	▶900-1	

VERTICAL

1	▶568-256	▶7x5	
2	▶10x64	▶moitié de 4	▶2x2
3	▶628-124	▶5x10	
4	▶moitié de 14	▶284+252	
5	▶576+356	▶729-221	
6	▶369+490	▶506-502	▶3x3
7	▶197+99	▶90-1	



5- Le mensonge manquant

Vincent n'a plus le droit à l'erreur. Heureusement, il sait comment il doit mentir pour ne pas se faire piéger par la sorcière.

Il va dans un magasin de jouets et cette fois, il parle avec des enfants.

- Tiens, j'ai eu le même train à Noël !

- Ma sœur avait la même poupée, mais elle l'a cassée la semaine dernière !

Et ainsi de suite.

Mais la sorcière a plus d'un tour dans sa boule ! Quand elle voit Vincent s'approcher du rayon des peluches, elle récite :

- Oubliri-oublira, ton souvenir s'effacera !

Et Vincent oublie immédiatement tous les jouets qu'il avait quand il était petit.

Il s'approche d'un garçon et lui dit : « J'avais le même ours à ton âge. »

Puis il part en ajoutant un bâton à sa liste.

Il ne sait pas que cette fois il a dit la vérité. Ses parents lui avaient offert le même ours pour ses quatre ans.

Devant sa boule de cristal, la sorcière ricane :

- Hi ! Hi ! Et voilà, mon mignon poulet pouilleux ! Je t'attends maintenant !

Vincent regarde sa montre : il est midi moins dix ! Vite, il compte ses bâtons : 98 !

Il lui en manque deux !

Sans perdre une seconde, il raconte deux autres mensonges, puis il se rend en courant chez la sorcière.


« Ouf ! pense-t-il, soulagé.

Léa ne doit plus avoir un seul champignon, maintenant ! »

Il se trompe... Léa, devant son miroir, observe sur son front le dernier champignon. Elle trépigne en secouant son talkie-walkie :

- Il est presque midi, Vincent !

Dépêche-toi, il manque encore un mensonge ! Allez, réponds-moi !



Mais Vincent n'entend pas, il a déjà sonné chez la sorcière...

Compréhension de lecture

1. Où Vincent va-t-il pour continuer ses mensonges ?

.....
.....

2. Quel mensonge de Vincent n'est pas un vrai mensonge ?

.....
.....

3. Qu'a fait la sorcière pour qu'il ne s'en rende pas compte ?

.....
.....


4. Recopie la phrase qui montre que la sorcière pense avoir gagné :

.....
.....

5. Est-ce que tous les champignons de Léa ont disparu ?

.....
.....

6. Fais une phrase pour expliquer l'image.



.....
.....

Dictée. Révisions. Note aux parents :

- Avant de commencer à dicter, il est préférable de lire les phrases à l'enfant.
- Faire la dictée
- Faire relire à votre enfant à voix haute les phrases pour s'assurer qu'il n'y a pas d'oubli.
- Lui faire souligner les verbes.

1) Les abeilles butinent les grosses fleurs rouges.

2) Je suis contente parce que j'ai beaucoup de bonbons dans mon panier.

3) Maman et moi travaillons beaucoup.

Le lapin de garenne

Il mange:

- des ronces
- des ajoncs
- des fruits
- des arbustes

Il est:


carnivore
herbivore
omnivore

La vie de famille:

Le mâle est le lapin, la femelle la lapine et les petits les lapereaux.

Les petits:

Ils naissent dans un terrier appelé rabouillère. Ils sont aveugles et nus. Tous ne survivent pas.



Particularités physiques:

Il a une fourrure douce, pèse de 1,2kg à 2,5kg pour 34 à 50cm, il court très vite (40km/h)

Sa peau est recouverte de

écailles	plumes	poils
----------	--------	-------

Il vit:

dans toute la France, dans des terriers en forêt.

Un réseau de terriers s'appelle une garenne.